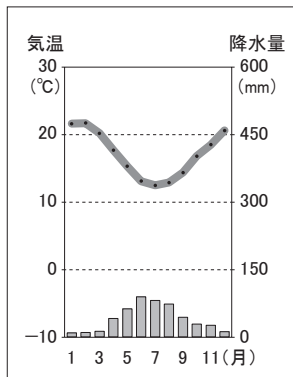


1 夏美さんは、アフリカ州の特色について調べることにした。各問いに答えよ。

- (1) 資料Ⅰは、略地図Ⅰ中の a～d のいずれかの都市の雨温図である。この雨温図に当てはまる都市を a～d から 1 つ選び、その記号を書け。
- (2) 夏美さんは、アメリカ州の産業について調べたことを次のメモにまとめた。

[資料Ⅰ]



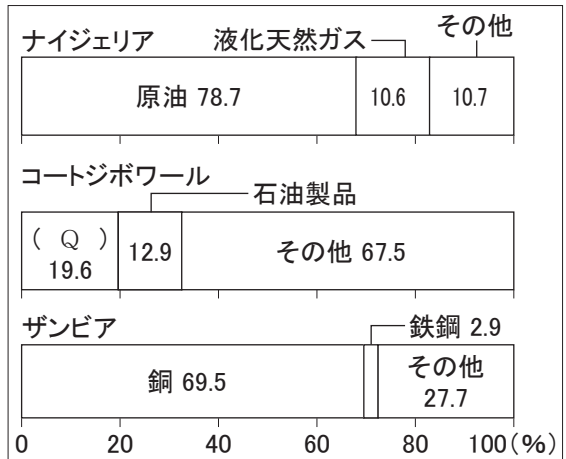
(「理科年表2025」より作成)

[略地図]



- ・略地図Ⅰ中のコンゴ民主共和国は、2023年において世界のコバルト生産量の約7割を占めている。コバルトは、携帯電話などに使われる希少な金属である(P)の一種である。
- ・資料Ⅱは、2024年における、ナイジェリア、コートジボワール、ザンビアの品目別輸出額割合を示している。
- ・資料Ⅱの国々は、特定の農産物や鉱産資源の輸出に依存している。このような国は、資料Ⅱから、(R)ため、国内の経済が不安定になりやすいという課題があるといえる。

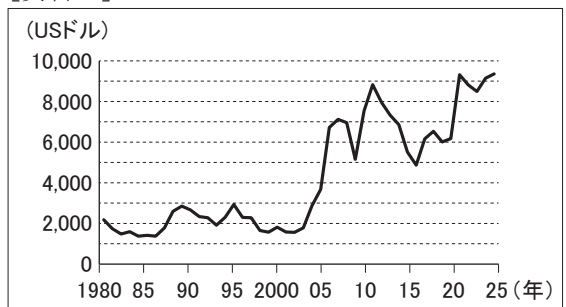
[資料Ⅱ]



(「世界国勢図会2024/25」より作成)

- ① (P)にあてはまる言葉を、カタカナ5字で書け。
- ② 資料Ⅱ中の(Q)に当てはまる品目を、次のア～エから1つ選び、その記号を書きなさい。
- ア 金 イ 茶
- ウ 石炭 エ カカオ
- ④ (R)に当てはまる言葉を、「国際価格」, 「国の収入」の語を用いて、簡潔に書け。

[資料Ⅲ]



(世界銀行資料より作成)

社会 模範解答・解説

1	(1)	d	
		①	レアメタル
		②	エ
	(2)	③	(例) 価格の変動にともなって国の収入が変動するから。

- 1 (1) 資料1は7月の気温が最も低く、1月や2月の気温が高いことから、日本とは季節が反対になる南半球の国であることがわかる。赤道はアフリカ大陸のほぼ中心を通り、cがほぼ赤道直下となることから、cかdであると考えられる。cとdのうち、cのケニア（ナイロビ）は高地に位置しているため比較的涼しく、年間の気温差が少ない。よってdの南アフリカ共和国（プレトリア）が正解となる。
- (2) コバルト以外には、リチウムやニッケルなどもレアメタルに含まれる。スマホやパソコンなどの普及に伴って世界的な需要が急拡大しており、希少性がさらに増している。
- (3) コートジボワールはカカオ豆の主産地であり、2023年現在、世界の生産量の3割以上を占めている。
- (4) 農作物や鉱産資源などのような国際価格の変動が大きい特定の商品の輸出に依存している国は、国際価格の変動によって国の収入も変動するため、経済が安定しないという課題がある。アフリカ州にはこのようなモノカルチャー経済の国が多くみられる。